
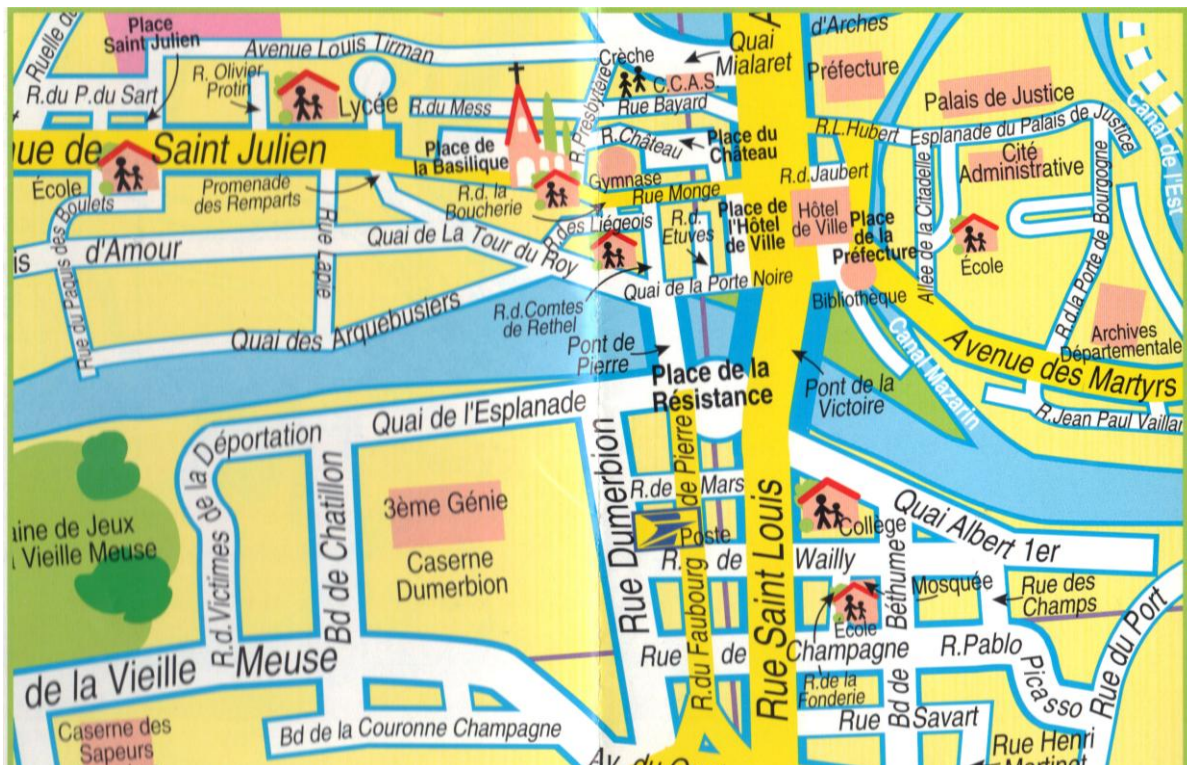


A la découverte des fortifications de MEZIERES



NOM :

Prénom :



Plan de Mézières aujourd'hui

Localise ton collège. Entoure-le en noir.

Localise les Archives départementales. Entoure-les également en noir.

Trace en rouge le trajet que tu as suivi pour venir aux Archives.

Comment connaître l'histoire de la ville de Mézières ?

© ARCHIVES DÉPARTEMENTALES

Observe le nom des différentes rues sur le plan de la page 1.
Relève les noms qui pour toi ont un lien avec le passé militaire de la ville.

-
-
-
-
-
-

Quel fleuve traverse la ville ?.....

A quelle époque est née cette cité ?



Mézières, une ville protégée qui attire les populations.

Mézières a été construite sur les ruines de Castrice, une cité romaine. Un château fut certainement fondé par Charlemagne vers 812. A la suite d'un incendie il est reconstruit en pierres à la fin du IX^eS. Les murs de ce château (= maceriae) ont donné le nom à la ville.

La ville dépend de l'Eglise de Reims puis elle entre dans le patrimoine du comte de Rethel. En 1233 Hugues III (comte de Rethel) accorde aux bourgeois de Mézières des privilèges dans une charte. Les droits et les devoirs des habitants sont également inscrits dans ce document. C'est à cette période que la première enceinte de la ville va être construite.

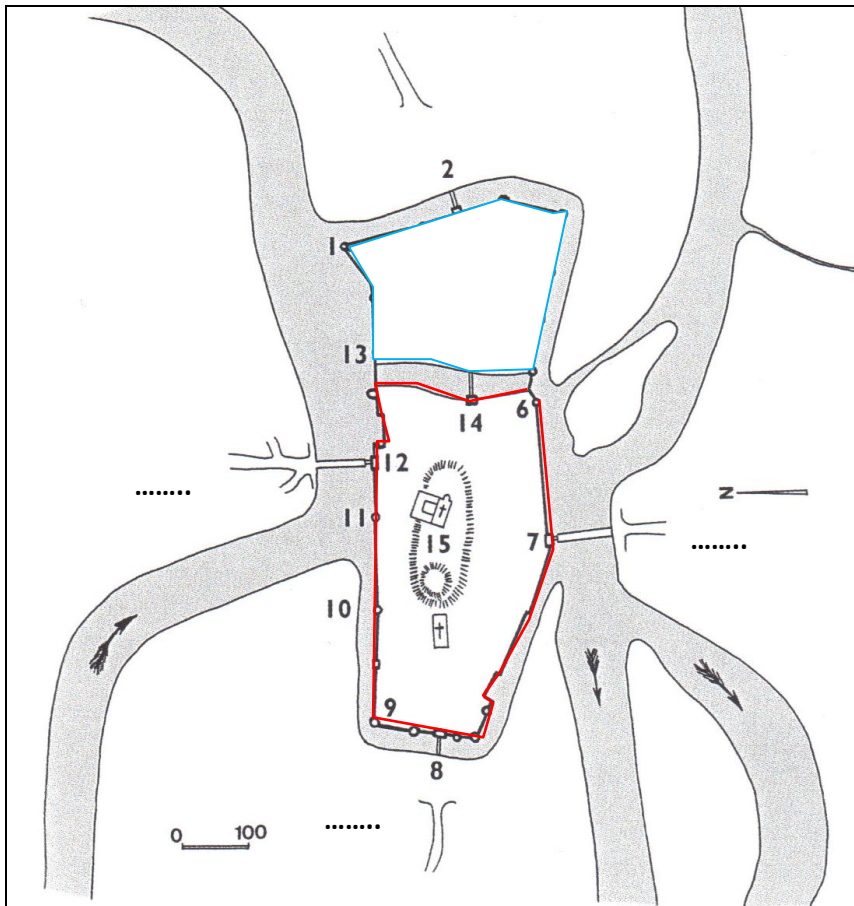
Retrouve les noms des 2 rues qui correspondent à ce que tu viens de lire !

-
-

Comment se nomment aujourd'hui les habitants de Mézières ?

.....

Comment s'organisait la ville de Mézières au XIII^eS ?



— Enceinte vers 1260
(essai de reconstitution)
— Murailles de 1275

1. Tour d'Arches
3. Tour du Lion
4. Tour de Mohon
5. Tour Jolie
6. Tour Cauchiette
9. Tour de la Bobresse
10. Tour de l'Ecole
11. Tour des Ambres
13. Tour de la Demoiselle
15. Château

Les fortifications de Mézières
br 274/1

A l'aide du schéma indique le numéro correspondant à chaque porte (enceinte de 1260). Attention à l'orientation du schéma !

Quatre portes permettaient l'accès de la cité :

- N°..... La porte Saint-Julien à l'ouest
- N°..... La porte Ardennaise à l'est
- N°..... La porte d'Arches au nord
- N°..... La porte Noire au sud

Les murs de pierre étaient flanqués de nombreuses tours.

Deux ponts franchissaient la rivière : le Pont d'Arches et le Pont de pierre au sud

Quatre faubourgs se développèrent à l'extérieur des remparts :

- A** : Le faubourg Saint Julien à l'ouest
- B** : Le faubourg d'Arches au nord
- C** : Le faubourg du pont de Pierre au Sud

Indique sur les pointillés la lettre correspondant à chaque faubourg cité.

Le faubourg de Berthaucourt à l'est de l'enceinte de 1260

avec une nouvelle porte : la porte à l'Image puis porte de Bourgogne
N°.....

Ce faubourg devient alors le quartier d'Entre deux portes

Ces fortifications rassurent la population. Des Liégeois par exemple viennent s'installer dans cette ville.

Grâce à la Meuse le commerce se développe. Celui-ci permet à Mézières de s'enrichir. Des négociants et des artisans s'installent dans le quartier de « l'Entre deux Portes ».

Mézières, une ville fortifiée.

Observe le plan N°1 (1 Fi 599 0001)

De quand date-t-il ?.....

Quel est le thème développé sur ce plan ?

Reconnais-tu des noms de villages ou de quartiers ?

Si oui lesquels ?.....

Au nord de Mézières tu peux observer « Arches p^{té} ». Qu'est devenu ce lieu aujourd'hui ?.....



AD08 1 Fi 599

Repère à nouveau les 5 portes. Utilise les numéros utilisés en page 3. Indique-les sur l'extrait du plan ci-dessus.



Photo de Jacques Philippot

Quel personnage très célèbre à Mézières est nommé dans la légende du plan?

.....

Que connais-tu de ce chevalier « sans peur et sans reproche » ?

.....

Sur la photographie Bayard surveille la cité. Sur quel bâtiment est-il perché ?

.....

Connais-tu un autre monument qui met en valeur Bayard ?

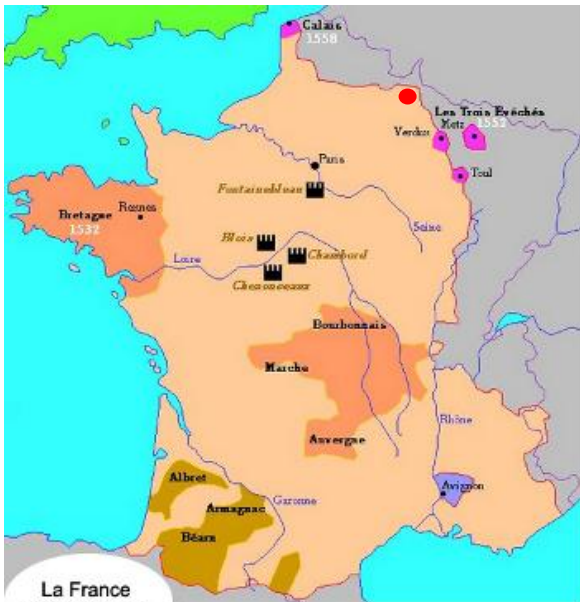
.....



En 1521, une guerre éclate entre le seigneur de Sedan Robert II de la Marck et l'empereur Charles Quint. François Ier, roi de France confie la défense de la ville à Pierre Terrail, seigneur de Bayard. Il met en place très rapidement la défense de la ville. Mais la victoire s'annonce difficile. Les fortifications résistent mal aux canons adverses et les vivres commencent à

manquer. Bayard utilise alors la ruse. Il fait en sorte qu'un de ses messagers soit intercepté par les troupes de Charles Quint. Le message précise que des renforts vont arriver très vite et que les alliés de Charles Quint vont le trahir. Celui-ci retire ses troupes. Bayard a réussi à protéger la ville.

Le siège de 1521 a montré l'importance de Mézières dans la défense du territoire.



Quelle est la position de Mézières dans le royaume de France au XVI^eS ?

.....

Suite au siège de Mézières, François Ier (1515- 1547) décide de moderniser l'enceinte construite au Moyen-âge.

Etude du **plan n°1** et du **plan n°2** (1Fi 580 0001):

Quelle est la date du **plan n°2** ?.....

Combien d'années séparent les deux plans ?.....

Comparons les 2 époques :

Quelle ville est apparue au nord du **plan n°2**?

Connais-tu sa date de construction et son fondateur ?

.....

Son plan est-il le même que Mézières ? Décris-le

.....

.....

Revenons à Mézières :

Quel est le changement principal de la ville ?

.....

A quelle date ont commencé ces changements ?

.....

Que représentent les espaces coloriés en rose sur les 2 plans ?

.....

Le quartier de l'entre deux portes est-il encore habité sur le **plan n°2**?.....

Sur le **plan n°2**, situe la construction **R**.

Qu'abrite-t-elle au XVIII°S ?.....

Qu'abrite-t-elle aujourd'hui ?.....

L'Hôtel des Tournelles était la résidence des comtes de Rethel. Plusieurs fois reconstruit, il est utilisé au XVIII°S pour accueillir l'Ecole royale du génie. Des personnages célèbres furent formés dans cette école (ex Rouget de l'Isle). Gaspard Monge y enseigna.

Les fortifications sont réalisées au cours du XVI°S. Elles se poursuivent jusqu'à la fin du XVIII°S.

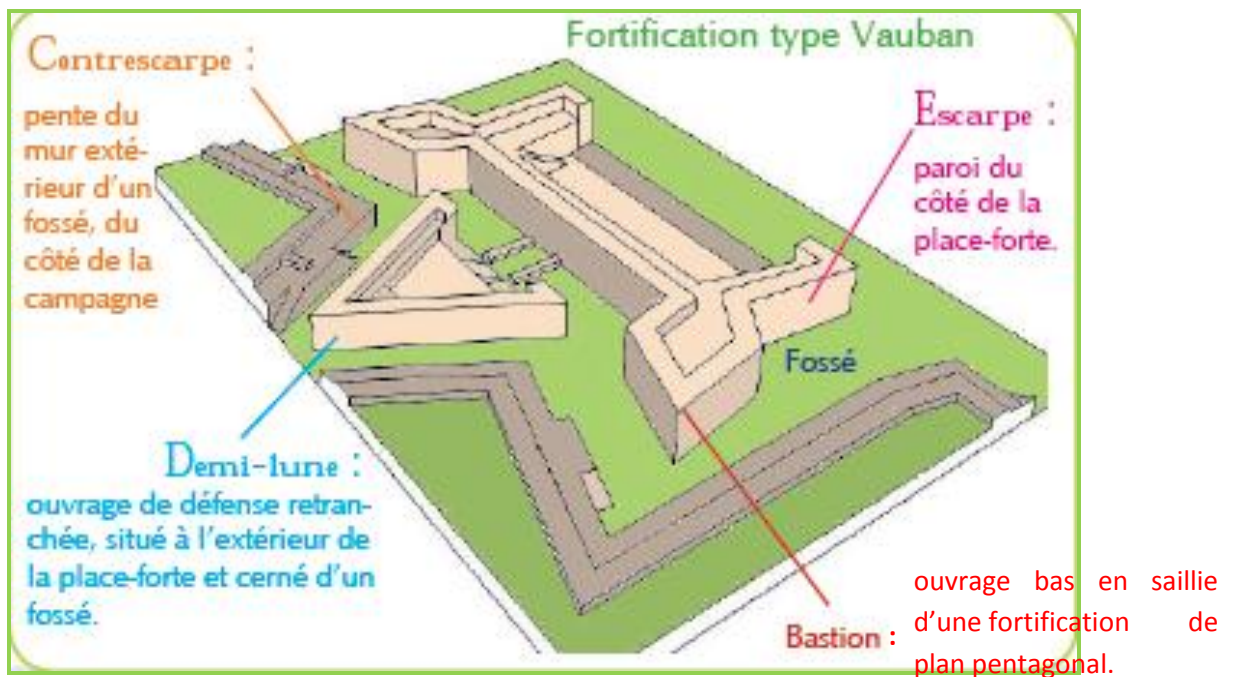
1^{er} temps : reconstruction de plusieurs tours (XVI^oS)

A toi de les retrouver sur le **plan n°2** :

La tour Milard est une tour ronde, anciennement appelée la tour de la Bobresse (voir le schéma p.3). Elle porte le numéro

La tour du Roy a une construction originale. C'est une tour en forme de U. Elle fait face à la tour Milard. Elle porte le numéro.....

2^{ème} temps : le bastionnement



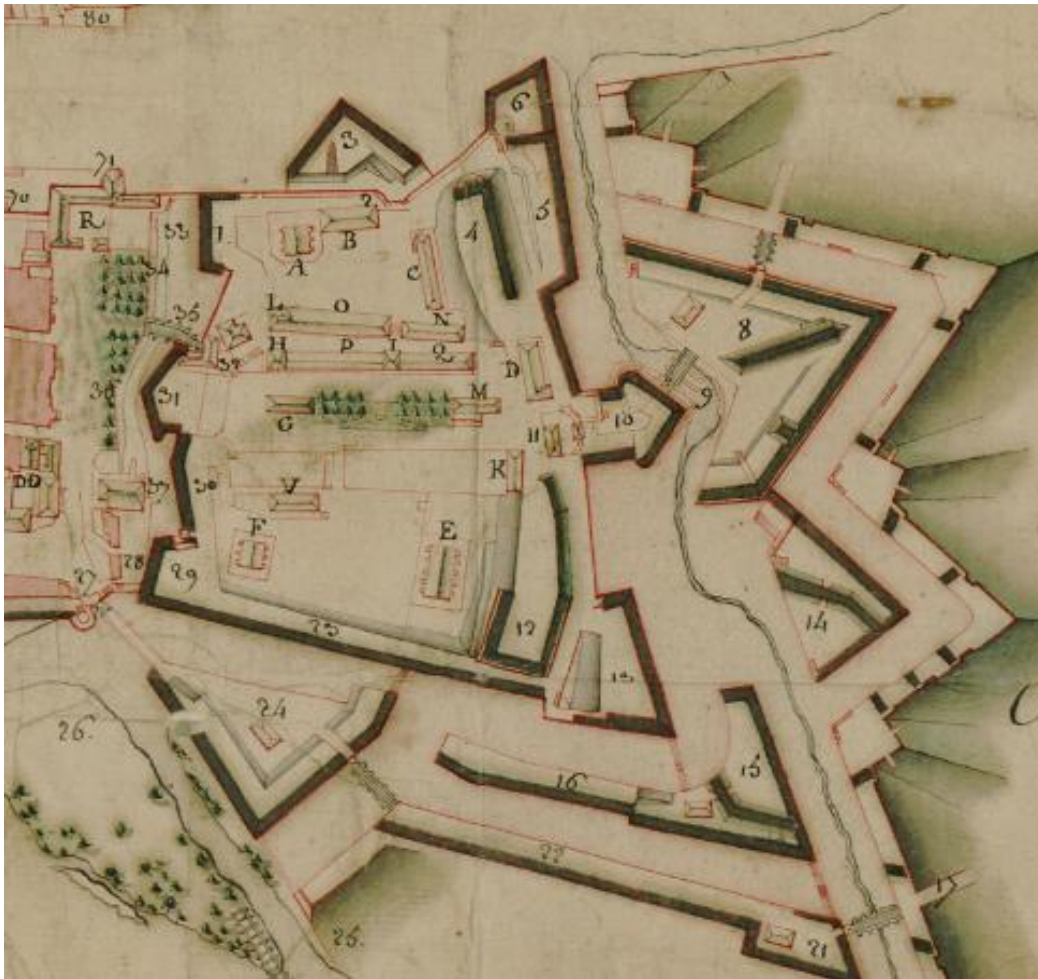
Les bastions sont construits en avant des portes.

Le bastion de Bourgogne ou bastion rompu fut l'une des premières constructions. Il correspond au numéro

La demi-lune de saint Julien dite « l'as de pique » fut peut-être construite vers 1595. A l'aide de la définition ci-dessus essaie de retrouver le numéro qu'elle porte sur le plan :

Les constructions sont très variées et complexes.

3^{ème} étape : la Citadelle



AD08 1 FI 599

C'est une forteresse attachée à la défense d'une ville.

Elle fut construite à partir de 1590 par le comte de Saint Paul. Elle s'installe dans le quartier de l'Entre deux Portes. Les habitants (environ 300 personnes) sont chassés. Cette place forte est entourée d'ouvrages militaires développés tout au long des XVI, XVII, et XVIII^{es}.

Après avoir traversé le pont n°35 on entre dans la citadelle n°32. Recherche ces numéros sur le plan. Entoure ces deux numéros en bleu sur le plan ci-dessus.

Quels sont les différents bâtiments que l'on retrouve à l'intérieur de la citadelle ?

.....
A qui, à quoi sont-ils destinés ?.....

.....
En 1606, la construction d'une nouvelle porte est autorisée car les habitants ne peuvent plus utiliser la porte de Bourgoane. La porte Neuve ou du Theux se

4^{ème} étape : les faubourgs

Quels faubourgs repérés sur le schéma (p. 1) ont été fortifiés ?

-
-
-

Toutes sont constructions datent des XVII et XVIII^{°S}. La Couronne de Champagne est la dernière fortification du XVIII^{°S}.

La fortification de la ville et la naissance de Charleville en 1606 réduisent l'activité économique. De nombreux Macériens partent dans la nouvelle ville voisine qui devient prospère.

Que sont devenues toutes ces fortifications ?

Durant la guerre de 1870, la ville est bombardée. Elle se rend le 10 août, la citadelle le 3 septembre. Cette guerre démontre l'inutilité de la place forte.

Les fortifications sont peu à peu détruites à partir des années 1880. La citadelle est conservée comme entrepôt et casernement avec le 91^{ème} régiment d'Infanterie.

La ville est occupée les Allemands durant toute la 1^{ère} Guerre Mondiale. Elle est bombardée et partiellement détruite en 1918.

Après la 2^{nde} Guerre, les deux principaux bâtiments de la Citadelle deviennent la cité administrative.

Entoure la date de la destruction des fortifications.

Mézières d'hier et d'aujourd'hui

Relie les cartes postales du début du XX^eS aux photographies actuelles correspondantes.

